

令和2年度

かさまつりよく

笠松力検定 キッズ 問題用紙

制限時間40分

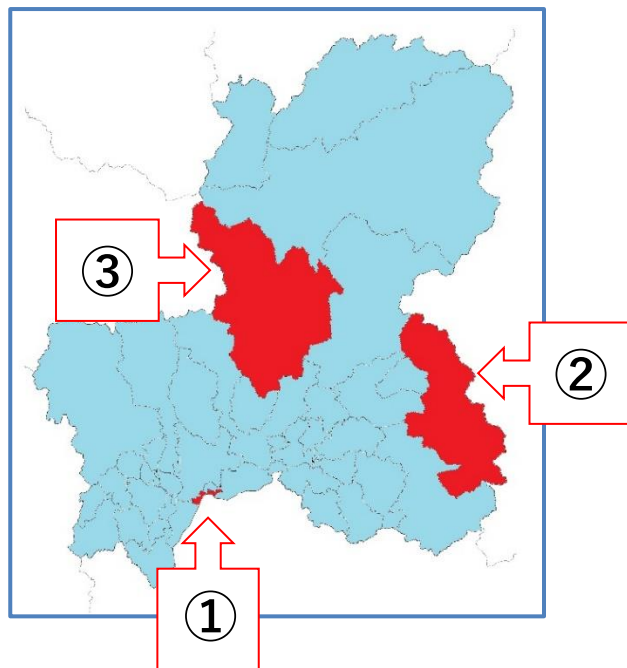
注意事項

- (ア) 検定問題は25問です。3つの中から正しいと思われる番号を1つ選び、解答用紙の数字に○を書いてください。
- (イ) あやまって○を書いた場合は、消しゴムであとが残らないように消してください。
- (ウ) 受検中は、先生の指示をよく聞いてください。
- (エ) 受検中は、問題の内容についての質問はできません。

笠松力検定委員会

次の問題を読み、正しいものを1つ選び^{かいとう}解答用紙の数字に○を書いてください。

1. 右の^{ぎふ}岐阜県の地図の中で、笠松町は①から③のどれですか。



2. 下羽栗地域の木曾川^{かせんじき}河川敷には、木曾川の流れたあとに、川の水が取り残されてできた「^{かせきこ}河跡湖」が集まるエリアがあります。このエリアは何天国と呼ばれていますか。

- ① カエル天国
- ② トンボ天国
- ③ 野鳥天国

3. 雨が降り^ふ木曾川の水が増えて流れが速くなった時に、^{ていぼう}堤防にあたる水の力を弱める^{やくわり}役割をする三角すいの形をしたものは何ですか。

- ① ^{さるお}猿尾
- ② やぐら
- ③ ^{ひじりうし}聖牛



4. 昭和 10 (1935) 年に笠松みなと公園近くの木曾川の川底から「マガキ」が発見されました。このことから分かった笠松の昔の^{すがた}姿は何ですか。


- ① 山
- ② 海
- ③ 湖

5. 明治 22 (1889) 年に笠松村が笠松町になったのち、さらに2つの村が^{いっしょ}一緒になって、現在の笠松町になりました。2つの村は、松枝村と何村ですか。

- ① 下羽栗村
- ② 門間村
- ③ 円城寺村


6. 町指定文化財の「北門間の^{かどま}地蔵^{じぞうさま}様」は別名「何地蔵」と呼ばれていますか。

- ① おへそ地蔵
- ② はだか地蔵
- ③ 円空地蔵



7. 昔、木曾川を通る船の荷物の^つ積み^お下ろしの時に「大八車」の車輪が、道に^く食い^こ込まないように工夫されたものが、今も笠松みなと公園に残っています。それは何ですか。

- ① ^{いしだたみ}石畳
- ② ^{すいろ}水路
- ③ ^{いしがき}石垣



8. 慶長5年(1600)、池田輝政を主力とする東軍と岐阜城主織田秀信の西軍が、現在の笠松町内で戦いました。関ヶ原の戦いに先立つ戦闘(前哨戦)となったこの戦いは何ですか。

- ① 長池の戦い
- ② 米野の戦い
- ③ 笠松の戦い

9. 笠松町下本町に「町屋風造り」の古い建物があります。「国の登録有形文化財」になっているこの建物は、何ですか。



- ① 杉村邸
- ② 杉浦邸
- ③ 杉山邸

10. 江戸時代に置かれた「美濃郡代笠松陣屋」の建物は、明治になると「笠松県庁」の建物として使われました。その後、明治4年から明治6年まで、どのような建物として使われていましたか。

- ① 笠松刑務所
- ② 国会議事堂
- ③ 岐阜県庁

11. 笠松町をはじめ、木曾川・長良川・揖斐川流域一帯は、度重なる河川のはんらん(氾濫)に苦しめられた地域です。この問題を解決しようと、江戸幕府が薩摩(現在の鹿児島)の人たちに命じて、せき(川の流れを調整するもの)や堤防を作らせた大規模な治水工事を何といいますか。

- ① 宝曆治水
- ② 江戸治水
- ③ 薩摩治水

12. 長良川のアユを江戸の将^{しょうぐん}軍様に献上するため、昔の人は時間がたって
も美味しく食べられるようにアユをあるものに加工して運んでいまし
た。何に加工していましたか。

- ① 干物
- ② すし
- ③ ^{かんろに}甘露煮

13. 平成 27（2015）年にオープンした笠松町歴史未来館は、平成 7（1995）
年に小学校の校舎の中に「歴史民俗資料室^{みんぞく}」の名前で作られたのが始まり
です。この資料室はどの小学校の中にありましたか。

- ① 笠松小学校
- ② 松枝小学校
- ③ 下羽栗小学校

14. 松枝地域には、写真のように石を高く積み
上げた上に建てられた「水屋」と呼ばれる
家が残っています。「水屋」はどんな自然
災害に備えて建てられましたか。



- ① ^{ふんか}噴火
- ② ^{こうずい}洪水
- ③ ^{じしん}地震

15. 「笠松春まつり」で、毛槍^{けやり}を投げ渡しながらか練り歩
く有名な行列がありますが、何と呼ばれていますか。

- ① ^{やっこ}奴行列
- ② ^{しゅくつぎ}宿次行列
- ③ ^{とのさま}殿様行列



16. 毎年8月22日に^{えんじょうじ}円城寺の秋葉神社で
“^{あまご}雨乞い^{おど}踊り”を踊ります。それは小
学生が中心となって^う受け^つ継がれていま
すが、何と呼ばれていますか。

(※令和2年は、新型コロナウイルス感染拡大防止のため中止
されました)



- ① ^{れいまい}お礼参り^{おどり}踊り
- ② ^{ばしゅう}芭蕉^{おどり}踊り
- ③ ^{おどり}みそぎ踊り

17. 笠松町内に、^{めいてつ}名鉄(名古屋鉄道)の駅が2つあります。笠松駅ともう1つ
は何駅ですか。

- ① 南笠松駅
- ② 北笠松駅
- ③ 西笠松駅

18. 笠松町には、「道徳のまりづくり条例」のように特色ある条例がありま
すが、これらの条例はどこで決められていますか。

- ① 笠松町委員会
- ② 笠松町議会
- ③ 笠松町プロジェクトチーム

19. 笠松町で、一番多く^{しゅうかく}収穫されるお米の^{ひんしゅ}品種は何ですか。

- ① ハツシモ
- ② あきたこまち
- ③ ひとめぼれ

20. 水道水を汲み上げている水源地は、笠松町にいくつありますか。

- ① 4つ
- ② 5つ
- ③ 6つ

21. 笠松町内に、だれでも気軽に立ち寄って交流できる場所（駅）がたくさんあります。それは何の駅ですか。

- ① 川の駅
- ② まちの駅
- ③ 道の駅

22. 平成30（2018）年に新しく建て直された学校給食センターは、給食を作る機能のほかに、どんな機能がありますか。

- ① 災害に備えて水を貯めておく設備
- ② 子どもが遊べるキッズスペース
- ③ 野菜を育てるための畑

23. 笠松競馬から中央競馬へ進出し、「芦毛の怪物」とよばれた有名な馬の名前は何ですか。

- ① カサマツロマン
- ② オグリキャップ
- ③ ラブミーチャン



24. 笠松町のマスコットキャラクター「かさまるくん」と「かさまるちゃん」のお腹なかについているものは何ですか。

- ① トンボ
- ② 舟ふね
- ③ 馬

25. 笠松町の「町の木」は何ですか。

- ① いちょう
- ② 杉すぎ
- ③ 松