

令和4年度

かさまつりよく

笠松力検定 キッズ 問題用紙

制限時間40分

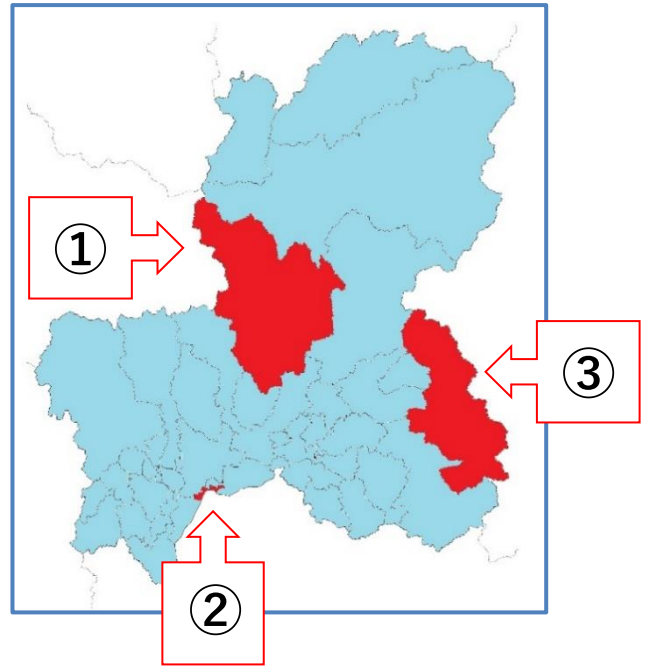
注意事項

- (ア) 検定問題は25問です。3つの中から正しいと思われる番号を1つ選び、解答用紙の数字に○を書いてください。
- (イ) あやまって○を書いた場合は、消しゴムであとが残らないように消してください。
- (ウ) 受検中は、先生の指示をよく聞いてください。
- (エ) 受検中は、問題の内容についての質問はできません。

笠松力検定委員会

次の問題を読み、正しいものを1つ選び^{かいとう}解答用紙の数字に○を書いてください。

1. 右の岐阜^{ぎふ}県の地図の中で、笠松町は①から③のどれですか。



2. 笠松町の面積のうち、木曾川は約何分の1を占めていますか。

- ① 2分の1
- ② 3分の1
- ③ 4分の1

3. 笠松町の人口は、およそ何人くらいですか。

- ① 11,000人
- ② 22,000人
- ③ 30,000人

4. 下羽栗地域の木曾川^{かせんじき}河川敷にはトンボ天国があります。トンボ天国^{せいそく}に生息しているトンボの種類はおよそ何種類ですか。

- ① およそ5種類
- ② およそ25種類
- ③ およそ50種類

5. 昭和10年に笠松みなと公園近くの木曾川の川底から「マガキ(下の写真)」が発見されました。昔の笠松はどんなところだとわかりますか。

- ① 海
- ② 湖
- ③ 山




6. 水道水を汲み上げている水源^{すいげんち}地は、笠松町にいくつありますか。

- ① 2つ
- ② 3つ
- ③ 4つ

7. 昔、木曾川を通る船の荷物の積み下ろしの時に「大八車^{だいはちぐるま}」の車輪が、道に食い込まないように工夫されたものが、今も笠松みなと公園に残っています。それは何ですか。

- ① 石畳^{いしだたみ}
- ② 水路^{すいろ}
- ③ 石垣^{いしがき}



8. 江戸時代^{えど}に置かれた「美濃郡代笠松陣屋^{みののぐんだいかさまつじんや}」の建物は、明治になると「笠松県庁^{かさとつけんちやう}」の建物として使われました。その後、明治4年から明治6年まで、どのような建物として使われていましたか。

- ① 国会議事堂^{こっかいぎじどう}
- ② 岐阜県庁^{ぎふけんちやう}
- ③ 笠松刑務所^{かさとつけいむしょ}



9. 笠松には、長良川のアユで作った鮎鮠あゆずしを、江戸の将軍様しょうぐんに運んだ街道かいどうがあります。その街道は何と呼ばれていますか。

- ① 将軍街道しょうぐん
- ② 鮎鮠街道あゆずし
- ③ 長良川街道

10. 慶長5年（1600）、池田輝政いけだてるまさを主力とする東軍と岐阜城主織田秀信おだひでのぶの西軍が、現在の笠松町内で戦いました。関ヶ原せきがはらの戦いに先立つ戦闘せんとう（前哨戦ぜんしょうせん）となったこの戦いは何ですか。

- ① 笠松の戦い
- ② 下羽栗しもはぐりの戦い
- ③ 米野こめのの戦い

11. 笠松町をはじめ、木曾川ながら・長良川いび・揖斐川流域一帯は、度重なる河川たびのはんらんに苦しめられた地域です。この問題を解決しようと、江戸幕府が薩摩さつま（現在の鹿児島）の人たちに命じて、せき（川の流れを調整するもの）や堤防を作らせた大規模な治水工事を何とといいますか。

- ① 宝曆治水ほうれき
- ② 江戸治水
- ③ 薩摩治水

12. 門間にあるお地蔵様じぞう（写真）は、昔から何地蔵じぞうと呼ばれていますか。

- ① はだか地蔵
- ② へそ地蔵
- ③ わらべ地蔵



13. 笠松町下本町に「町屋造り」の古い建物が
あります。「国の登録有形文化財」になっ
ているこの建物は、何ですか。

- ① すぎむらてい 杉村邸
- ② すぎうらてい 杉浦邸
- ③ すぎやまてい 杉山邸



14. 松枝地域には、洪水がおきても生活できる
ように、道路よりも高く石を積み上げて
作った家があります。それは何ですか。

- ① たかや 高屋
- ② みずや 水屋
- ③ まちや 町屋



15. 笠松町内には、名鉄電車の駅が2つあります。「笠松駅」ともうひとつは、
何駅ですか。

- ① 東笠松駅
- ② 西笠松駅
- ③ 南笠松駅

16. 毎年8月22日に円城寺の秋葉神社で
“^{あまご}雨乞い^{おど}踊り”を踊ります。それは小
学生が中心となって^う受け^つ継がれていま
すが、何と^よ呼ばれていますか。

(※令和2・3・4年は、新型コロナウイルス感染拡大防止のため
中止されました)



- ① おふじ^{おどり}踊
- ② みそぎ^{おどり}踊
- ③ 芭蕉^{ばしょうおどり}踊

17. 笠松みなと公園で行われる秋のイベントは何ですか。

- ① 町民大運動会
- ② 笠松町美術展
- ③ リバーサイドカーニバル

18. 笠松町で、一番多く^{しゅうかく}収穫されるお米の^{ひんしゅ}品種は何ですか。

- ① ハツシモ
- ② コシヒカリ
- ③ ひとめぼれ

19. 笠松町立小学校はいくつありますか。

- ① 2校
- ② 3校
- ③ 4校

20. 笠松町には、「^{じょうれい}道徳のまちづくり条例」のように特色ある条例がありますが、これらの条例はどこで決められていますか。

- ① 笠松町^{いいんかい}委員会
- ② 笠松町^{ぎかい}議会
- ③ 笠松町プロジェクトチーム

21. 笠松町の歴史や文化、^{うちゅう}宇宙などの未来に関する資料の^{しゅうしゅう}収集や展示を行っているこの建物の名前は何ですか。

- ① 歴史未来館
- ② 歴史^{みんぞく}民俗資料館
- ③ 文化未来館



22. 笠松町では、子どもたち自身で子どもの^{けんり}権利や^{やくわり}役割などについて考え、^{じょうれい}条例を定めました。その条例の名前は何ですか。

- ① 子どもの権利に関する条例
- ② 子どもの夢に関する条例
- ③ 子どもの未来に関する条例


23. 笠松^{けいば}競馬から中央競馬へ^{しんしゅつ}進出し、「^{あし}芦毛の怪物」とよばれた有名な馬の名前は何か。

- ① オグリローマン
- ② オグリキャップ
- ③ ラブミーチャン



24. 笠松町マスコットキャラクターの「かさまるくん」と「かさまるちゃん」
は双子の兄妹です。二人が頭の笠につけているものは何ですか。

- ① 梅
- ② 松
- ③ 竹




25. 笠松町の町章はどれですか。

①



②



③

