

# 平成30年度

かさまつりよく

## 笠松力検定 キッズ 問題用紙

### 制限時間40分

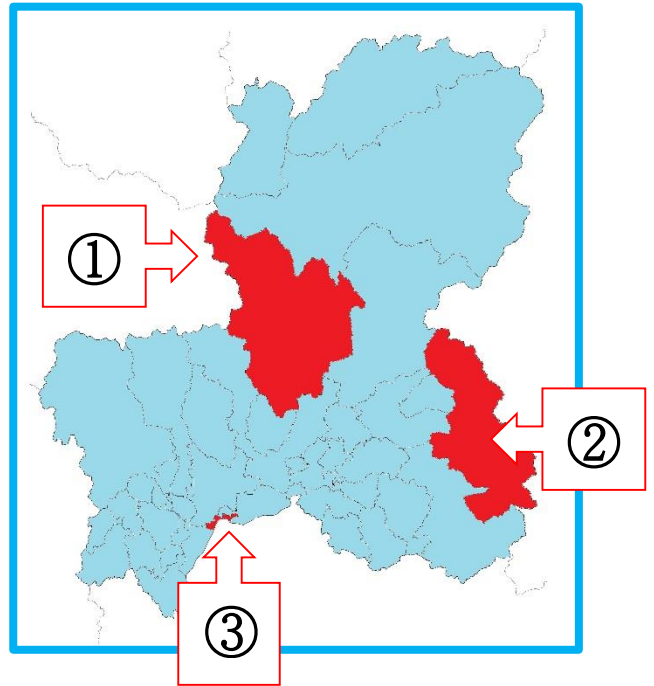
#### 注意事項

- (ア) 検定問題は25問です。3つの中から正しいと思われる番号を1つ選び、解答用紙の数字に○を書いてください。
- (イ) あやまって○を書いた場合は、消しゴムであとが残らないように消してください。
- (ウ) 受検中は、先生の指示をよく聞いてください。
- (エ) 受検中は、問題の内容についての質問はできません。

## 笠松力検定委員会

次の問題を読み、正しいものを1つ選び<sup>かいとう</sup>解答用紙の数字に○を書いてください。

1. 右の<sup>ぎふ</sup>岐阜県の地図の中で、笠松町は①から③のどれですか。



2. 笠松町の面積の中で、<sup>きそがわ</sup>木曾川は約何分の1を占めていますか。

- ① 2分の1
- ② 3分の1
- ③ 4分の1

3. <sup>かせんじき</sup>木曾川の河川敷にある「トンボ池」は、どのようにしてできましたか。

- ① 木曾川の本流のあとにできた
- ② 水が湧き出たできた
- ③ 人が掘ってできた

4. 雨が降り木曾川の水が増えて流れが速くなった時に、<sup>ていぼう</sup>堤防にあたる水の力を弱める<sup>やくわり</sup>役割をする三角すいの形をしたものは何と<sup>よ</sup>呼ばれていますか。

- ① トンボ
- ② やぐら
- ③ <sup>ひじりうし</sup>聖牛



5. 昭和10年に笠松みなと公園近くの木曾川の川底から「マガキ」が発見されました。このことから分かった笠松の昔の姿は何ですか。


- ① 山
- ② 海
- ③ 湖

6. 今の笠松町は、3つの村が一緒いっしょになってできました。3つの村の中で、最後さいごに一緒になった村はどれですか。

- ① 下羽栗村
- ② 松枝村
- ③ 笠松村

7. 昔、木曾川を通る船ふねの荷物つの積み下ろしおの時に「大八車だいはちぐるま」の車輪が、道みちに食い込まこないように工夫されたものが、今も笠松みなと公園に残っています。それは何ですか。

- ① 石畳いしだたみ
- ② 水路すいろ
- ③ 石垣いしがき



8. 1600年の「関ヶ原せきがはらの戦い」の前に、東軍と西軍が、木曾川で戦った場所に記念碑きねんひが建てられています。その戦いは何と呼ばれていますか。

- ① 中野なかのの戦い
- ② 米野こめのの戦い
- ③ 江川えがわの戦い

9. 笠松町下本町に「町屋風造り」の古い建物があります。「国の登録有形文化財」になっている建物は、何と呼ばれていますか。

- ① 杉村邸
- ② 杉浦邸
- ③ 杉山邸



10. 門間にあるお地蔵様（写真）は、昔から何地蔵と呼ばれていますか。

- ① へそ地蔵
- ② はだか地蔵
- ③ わらべ地蔵



11. 江戸時代に置かれた「美濃郡代笠松陣屋」の建物は、明治になると「笠松県庁」の建物として使われました。その後、明治4年から明治6年まで、どのような建物として使われていましたか。

- ① 笠松刑務所
- ② 国会議事堂
- ③ 岐阜県庁

12. 笠松には、長良川のアユで作った鮎鮓を、江戸の将軍様に5日間かけて運んだ街道があります。その街道は何と呼ばれていますか。

- ① 将軍街道
- ② 鮎鮓街道
- ③ 鮎飯街道

13. 洪水こうずいがおきても生活できるように、  
道路よりも高く石をいっぱい積み上げて  
作った家は何と呼ばれていますか。

- ① 水屋みずや
- ② 石屋いしや
- ③ 魚屋うおや



14. 毎年8月22日に円城寺えんじょうじの秋葉神社で  
“雨乞い踊り”あまごいおどを踊ります。それは小  
学生が中心となって受け継がれていま  
すが、何と呼ばれていますか。

- ① お礼参り踊りれいまいおどり
- ② 芭蕉踊ばしょうおどり
- ③ みそぎ踊みそぎおどり



15. 「笠松春まつり」で、毛槍けやりを投げ渡しなが  
ら練り歩く有名な行列があります。それは何ですか。

- ① 奴行列やつこ
- ② 宿次行列しゆくつぎ
- ③ 殿様行列どのさま



16. 笠松みなと公園で行われる秋のイベントは何ですか。

- ① 町民大運動会
- ② リバーサイドカーニバル
- ③ 笠松町美術展

17. 「公共施設巡回町民バス」の昇降口に描かれている花は何ですか。

- ① さくら
- ② すみれ
- ③ もも

18. 笠松町内に、名鉄(名古屋鉄道)の駅はいくつありますか。

- ① 1 駅
- ② 2 駅
- ③ 3 駅

19. 笠松町で、一番多く収穫されるお米の品種名は何ですか。

- ① ハツシモ
- ② あきたこまち
- ③ ひとめぼれ

20. 道徳のまち推進Tシャツには「道徳のまち」のイメージカラーが使われています。それは何色ですか。

- ① 青色
- ② 赤色
- ③ オレンジ色

21. 水道水を汲み上げている水源地は、笠松町にいくつありますか。


- ① 4 つ
- ② 5 つ
- ③ 6 つ

22. 笠松町内に、だれでも気軽に立ち寄って交流できる場所（駅）がたくさんあります。それは何の駅ですか。

- ① 川の駅
- ② まちの駅
- ③ 道の駅

23. 笠松競馬から中央競馬へ進出し、「芦毛の怪物」とよばれた有名な馬の名前は何か。

- ① カサマツロマン
- ② オグリキャップ
- ③ ラブミーチャン



24. 笠松町のマスコットキャラクター「かしまるくん」と「かしまるちゃん」はどんな関係ですか。

- ① 双子
- ② 親子
- ③ 親友

25. 笠松町のマーク「町章」はどれですか。

